


Hudobná teória HDU

Meno:.....

1) Zapište noty: c^2 , ais^1 , fis^2 , e^1 v husľovom kľúči (4b)



2) Zakrúžkujte správne pomenované noty v basovom kľúči (2b)



As^1 c f e^1

3) Doplníte správne tóny do stupnice c mol (prirodzená) (2b)


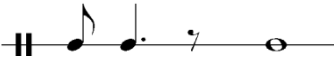




4) Spočítaním 2 poltónov vznikne (1b)

(správnu odpoveď zakrúžkujte)

- a) celý tón
- b) poltón

5) V uvedených príkladoch zakrúžkujte (2b)

- a) polovú notu 
- b) osminovú pomlčku 
- c) štvrtovú pomlčku 
- d) osminovú notu 

6) Do skupiny dychových nástrojov patrí (1b)

(správnu odpoveď zakrúžkujte)

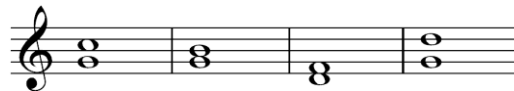
- a) flauta
- b) bubon

7) V uvedených príkladoch zakrúžkujte (4b)

a) čistú oktávu



b) veľkú terciu



8) V uvedených príkladoch zakrúžkujte (4b)

a) durový kvintakord



b) molový kvintakord



9) Zakrúžkujte názov muzikálu (1b)

(správnu odpoveď zakrúžkujte)

- a) Figarova svadba
- b) Drakula

10) Medzi slovenských hercov patrí (4b)

(zakrúžkuj dve mená)

- a) Martin Huba
- b) Oldřich Nový
- c) Tomáš Mašťalír
- d) Jiřina Bohdalová

25b – 21,5b vyhovelo výborne

21b – 15,5b vyhovelo

15b – 0 nevyhovelo

Počet bodov:.....

Hodnotenie:.....

Podpis